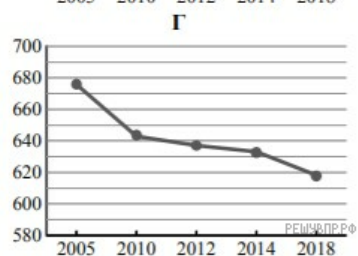
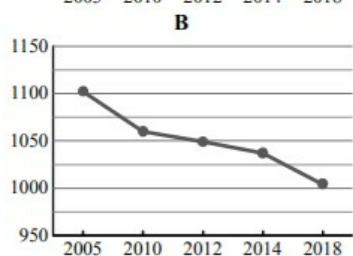
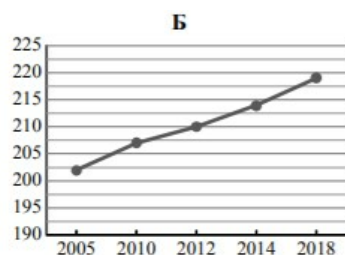
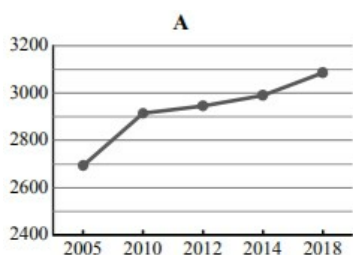


Используя представленную ниже таблицу и графики динамики численности населения по субъектам Российской Федерации за период 2005–2018 гг., выполните задания.

Динамика численности населения, тыс. человек

№ п/п	Субъекты РФ	2005 г.	2010 г.	2012 г.	2014 г.	2018 г.
1	Ивановская область	1102	1060	1049	1037	1004
2	Республика Дагестан	2693	2914	2946	2990	3086
3	Республика Алтай	202	207	210	214	219
4	Республика Карелия	676	643	637	633	618



В каких из приведённых в таблице субъектах Российской Федерации численность населения за указанный период выросла? Запишите в ответе названия субъектов РФ.

В каком из приведённых в таблице субъектов Российской Федерации убыль населения за указанный период была наибольшей? Запишите в ответе название субъекта РФ. (При необходимости Вы можете воспользоваться калькулятором.)